

بِسْمِ اللَّهِ الرَّحْمَنِ الرَّحِيمِ



پاسخنامه کتاب آدینه ششم ابتدایی

ویژه معلمان پایه ششم ابتدایی

نویسنده: بهاره بشیری - فرشته رحمانی

هفته اول مهر

علوم

(الف)

۱- مشاهده

۲- فرضیه‌سازی

(ب) در جای خالی پاسخ مناسب بنویسید.

۱- بعد از انجام آزمایش و تکرار آن، بهتر است مشاهدات خود را یادداشت کنیم.


۲- پوریا و همکلاسی‌هایش پس از گفت‌وگو درباره‌ی شهاب سنگ‌ها، فرضیه‌های مختلفی ارائه دادند.

(ج)

۱- درست

۲- درست

(د) پاسخ دهید.



۱- چرا می‌گوئیم در آزمایش فرضیه‌ها، اندازه

گیری باید دقیق باشد؟

تا بتوانیم به نتیجه‌گیری درستی برسیم.



۲- با استفاده از کلمات (آسمان، پرنده) یک فرضیه بسازید.

شاید در آسمان تهران یک پرنده ببینیم.

ریاضی

(الف)

۱- گزینه ۴

۲- گزینه ۳

(ب) ۱- فرد ۲- زوج

(ج) ۱- زوج ۲- فرد

$$۶۵۴۳۸ + ۵۸۷۲ = ۷۱۳۱۰$$

(د) ۱- زوج $+ \underline{۵۸۷۲}$

$\underline{۷۱۳۱۰}$

۲- $\underline{۴, ۹, ۵, ۸}$

-۳

شماره شکل	۱	۲	۳	۴	۵
تعداد دایره‌ها	۳	۵	۷	۹	۱۱

$$\text{الگو} \rightarrow (2 \times n) + 1 \quad n = 982 \quad (2 \times 982) + 1 \Rightarrow 1965$$

فارسی

(الف)

۱- شیخ محمود شبستری

۲- همه‌ی مخلوقات و آفریده‌ها نشانه‌ای از حضور و قدرت خداوند هستند.

(ب)

۱- در زبان فارسی ما مقصود خود را به صورت جمله بیان می‌کنیم.

۲- عبارت «خیز و غنیمت شمار» یک جمله‌ی امری است.

(ج)

۱- درست

۲- نادرست

(د) پاسخ دهید.

شناخت با علم و دانش	معرفت:	بهار	ربیع:
سپهر - آسمان	گردون:	بلند شو	خیز:

۲- در متن زیر نقطه‌ها جا افتاده‌اند، آنها را در جای صحیح خود قرار بده.
«این همه خلق که می بینی چندین بسیاری، این همه را خالق است که
آفریدگار جهان است و نعمت برایشان از وی است. اندیشه کردن اندر کار
خالق و مخلوق، روشنایی افزاید اندر دل و غفلت از این، با اندیشیدن باشد و
تاریکی افزاید.»

اجتماعی:

(الف)

۱) دوستی

۲- ۴) امام علی (ع)

(ب)

۱- ناخوشایندی.

۲- انتخاب دوست.

ج) ۱- درست ۲- درست

د) پاسخ دهید.

۱-

۱) مهربانی

۲) کسی که بین دوستان جدایی می‌اندازد.

۳) همراهی - رفاقت

۴) انسانی که کار خیر می‌کند.

۲- بدترین افراد کسانی هستند که میان مردم سخن‌چینی می‌کنند و بین

دوستان جدایی می‌اندازند.

هفته دوم مهر

علوم:

(الف)

۱- استنباط

۲- طراحی تحقیق

(ب)

۱- عمیق تر

۲- نمودار

(ج) پاسخ دهید.

۲- جمع آوری اطلاعات

۱- مشاهده

۴- آزمایش

۳- پیشنهاد راه حل یا فرضیه سازی

۶ نظریه

۵- تکرار آزمایش

ریاضی

(الف)

۲- گزینه ۳

۱- گزینه ۳

(ب)

۲- درست

۱- نادرست

ج) - یکان میلیون - دهگان میلیون زوج \odot ۳۲/۰۹۵/۶۸۲/۹۶

- ۳۰/۰۰۰/۰۰۰/۰۰۰

فارسی:

(الف)

۱- سندبادنامه

(ب)

۱- فعل

۲- نقطه

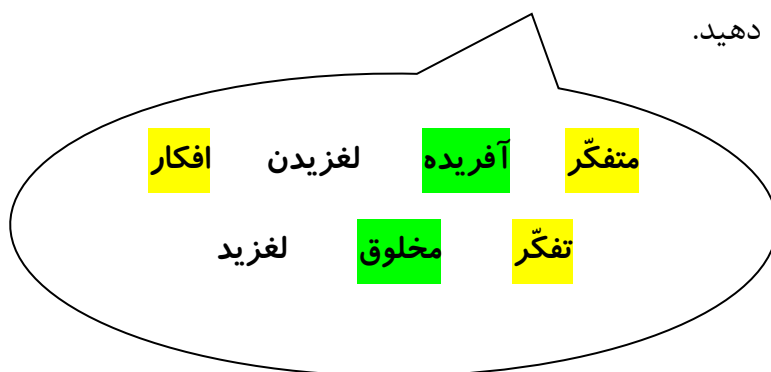
(ج)

درست

نادرست

سه حرف مشترک (ع م ل)

(د) پاسخ دهید.



۲- با توجه به متن درس دوم جدول زیر را کامل کنید.

کلمات ۴ نقطه‌ای	دریافت -----
کلمات ۵ نقطه‌ای	پای بند خودبینی -----
کلمات ۳ نقطه‌ای	نهراسیم خلق -----

اجتماعی:

الف) فرزندم گزینه‌ی درست را با علامت ✓ مشخص کنید.

۱-

۴) همه‌ی موارد

۲-

۲) آداب دوستی

ب)

۱- دوستی

۲- حدومرزی

ج)

درست

درست

د) پاسخ دهید.

۱- خوش اخلاق، خیرخواه، راستگو، با ادب، یک‌رنگ.

۲- ۱- درخواست نابجا داشته باشد، برای خود و خانواده‌ام در دسر شود.

۳- افراطی

هفته سوم مهر

علوم

الف) ۱- چوب، پشم، سنگ

۲- ۷۰۰ سال پس از میلاد مسیح

ب)

۱- چوب

۲- طبیعی

ج)

۱- نادرست عکاسی - خیاطی - قنادی - مدارس

۲- نادرست برگ و ریشه مناسب نیست

د) پاسخ دهید.

۱- دوست خوبم مراحل تولید کاغذ را به ترتیب شماره گذاری کنید.

<input type="checkbox"/> ۵ خشک کردن خمیر	<input type="checkbox"/> ۱ بریدن درخت و حمل به کارخانه	
<input type="checkbox"/> ۴ از بین بردن رنگ	<input type="checkbox"/> ۲ کندن پوست	<input type="checkbox"/> ۳ چسب چوب

البته چسب چوب و از بین بردن رنگ در یک مرحله است.

۱- بریدن و حمل به کارخانه (فیزیکی)

۲- کندن پوست (فیزیکی)

۳- تبدیل به تکه‌های ریز چوب (چیپس چوب) (فیزیکی)

۴- تبدیل تکه‌های ریز چوب به خمیر و از بین بردن رنگ آن (شیمیایی)

۵- خشک کردن خمیر و تهیه‌ی کاغذ فیزیکی

ریاضی

(الف)

۱- گزینه ۱

۲- گزینه ۳

(ب)

۱- بر عدد ۲ بخش پذیرند.

۲- صفر یا ۵ باشد بر ۵ بخش پذیرند.

(ج)

۱- نادرست

۲- درست

(د)

۱- $42 \overset{5}{\uparrow}$ $689 \boxed{3}$

۲- در گروه ۵ یا ۸ نفره.

۳- * رنگ آبی $148 - 32 - 166 - 92$

* رنگ قرمز $351 - 231 - 381$

* رنگ زرد $95 - 85 - 1285$

فارسی:

۱- ابوالقاسم حالت

۲- خشنودی

(ب)

۱- نهراسیم

۲- دیدید

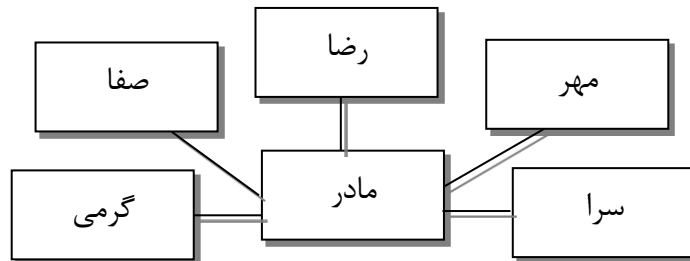
(ج)

۱- نادرست

۲- درست

(د) پاسخ دهید.

۱-



۲- یک روز پسرکی از خانه بیرون آمد و با پدرش به سمت جنگل حرکت کرد تا بتواند شکار مناسبی را برای غذای شب آماده کند. وقتی در جنگل

را می‌رفتند صداهای عجیبی می‌آمد که بسیار آنها را ترسانده بود ولی باز هم آنها به راه خود را ادامه دادند.

- به دلخواه خود ادامه‌ی متن بالا را در دو سطر بنویسید.

.....

۳- چهار کلمه از درس هُدهُد پیدا کن و آنرا با خطّ زیبایت بنویس.

.....

اجتماعی:

الف) فرزندم گزینه‌ی درست را با علامت ✓ مشخص کنید.

-۱

۳) انتخاب از بین دو یا چند چیز

۲-۲) تصمیم‌گیری کرده است

ب) در جای خالی پاسخ مناسب بنویسید.

۱- آثاری

۲- زندگی

(ج)

۱- درست ۲- درست

(د) پاسخ دهید.

۱- فرض کنید فردا قرار است از طرف مدرسه به اردوی خارج از شهر، بروید ولی پدر شما چنین اجازه‌ای نمی‌دهد و رضایت‌نامه را امضاء نمی‌کند. تصمیم شما چه خواهد بود؟ چون پدرم به صلاح من فکر می‌کند قبول می‌کنم

۲- جدول زیر را کامل کنید.

تصمیم‌ها	مثبت	منفی	چرا
۱- آریا و پوریا تصمیم گرفتند نوشابه مصرف نکنند	✓		سلامتی
۲- آرش تصمیم گرفته زمان کمتری را به بازی با رایانه اختصاص دهد.	✓		سلامتی و خواندن درس
۳- هانیه تصمیم گرفته هر روز به میزان لازم شیر بنوشد.	✓		سلامتی

هفته چهارم مهر

علوم:

(ف)

۱- محلول صورتی کمرنگ

۲- گار کلر

(ب)

۱- خنک و

۲- مواد

(ج)

۱- درست

۲- نادرست

زیرا با قطع درختان تولید اکسیژن کم در نتیجه دی‌اکسید کربن زیاد و تنفس سخت می‌گردد.

(د) پاسخ دهید.

۱- به نظر شما چرا جنس کیسه‌های نایلونی ویژه‌ی زباله ضخیم‌تر از

کیسه‌های فریزر مخصوص بسته‌بندی مواد غذایی است؟ (ذکر ۲ دلیل)

۱- از مواز بازیافتی هستند ۲- تا زباله‌ها بر اثر پارگی در محیط پخش نشوند. و باعث آلودگی محیط‌زیست می‌شوند.

۲- صرفه‌جویی در مصرف انرژی (آب و برق) قطع نشدن درختان و پاکیزگی محیط‌زیست.

۳- به محیط‌زیست مدهای سبز کمک کرد. و مدهای سبز درست محیط‌زیست می‌باشد.

۲- به نظر شما و با توجه به آنچه آموختید بازیافت کاغذ چگونه موجب حفظ محیط‌زیست می‌شود؟

صرفه‌جویی در مصرف انرژی (آب و برق) قطع نشدن درختان و پاکیزگی محیط‌زیست.

۳- دوست خوبم تفاوت مدهای سبز با مدهای معمولی چیست؟

به محیط‌زیست مدها سبز کمک کرده

• کدام یک دوست محیط‌زیست است؟ مدهای سبز

ریاضی

الف) ۱- گزینه ۳ ۲- گزینه ۲

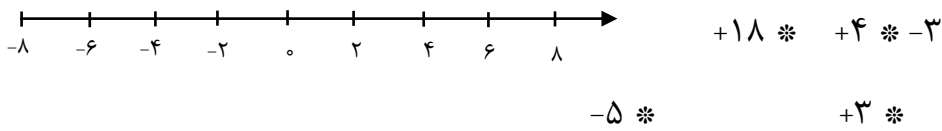
ب) ۱- (- و +) ۲- کوچک ترند.

ج) ۱- درست ۲- نادرست

د)

۱- $-90, -10, -1, +1, +8, +10$

۲- $+8, +6, +4, +2, 0, -2, -4, -6, \dots$



فارسی:

الف)

۲) درد - شایسته

۲-

۱) نظامی

ب).

۱- ۳

۲- گفتار بیهوده.

(ج)

۱- درست

۲- درست

(د) پاسخ دهید.

۱- مفهوم عبارت «آب از چه همه زلال خیزد/ از خوردن پر، ملال خیزد»

چیست؟

هرچند که آب زلال و دل‌انگیز است اما خوردن زیاد آن هم موجب ناراحتی

می‌گردد.

۲- شیر، شیر

: به، به

* برای کلمات نوشته شده بالا جمله‌ی مناسب و معنی‌داری بنویسید.

اجتماعی:

(الف)

۱- انتخاب بهترین راه

۲- مشورت کردن

(ب)

۱- نتیجه

۲- زیان

(ج)

۱- نادرست

۲- درست

(د) پاسخ دهید.

۱- پدر و مادر و معلمین چون دارای تجربه و فهم و اطلاعات بیشتری هستند.

۲- در کارهایتان مشورت کنید.
